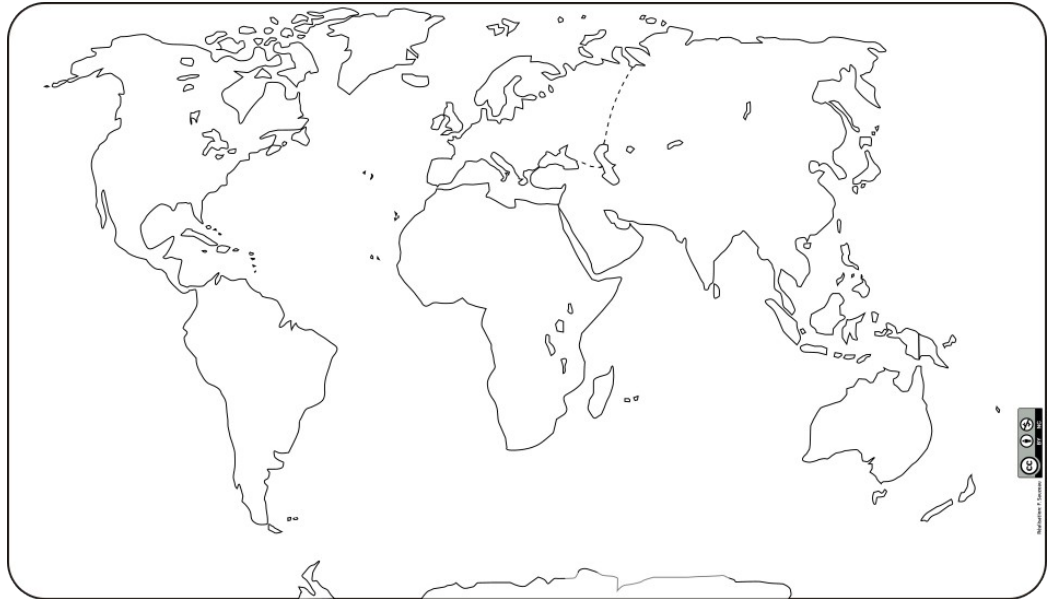




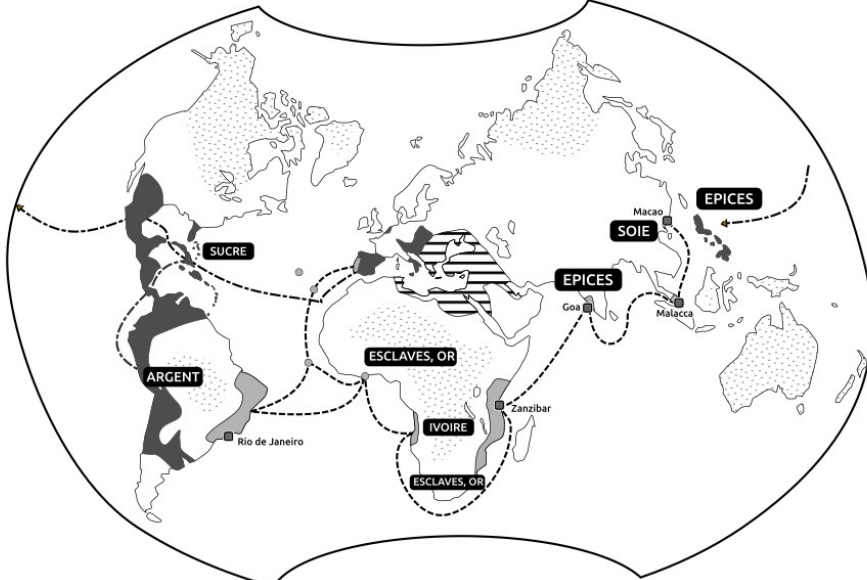
### SE REPÉRER DANS L'ESPACE

Sur le fond de carte, localise au bon endroit le nom des **CONTINENTS** en lettres capitales noires et les **OCÉANS** en lettres capitales bleues.



**Quelles informations nous apporte la carte "Les Européens découvrent de "nouveaux mondes" aux XV - XVIe siècles"? Surligne les bonnes réponses parmi les propositions suivantes :**

#### LES EUROPEENS DECOUVRENT DE "NOUVEAUX MONDES" AUX XV<sup>e</sup> - XVI<sup>e</sup> siècles



##### Un monde dominé par les royaumes ibériques

- Possessions espagnoles
- Possessions portugaises
- ▨ Possessions ottomanes
- ░ Territoires inconnus des Européens à la fin du XV<sup>e</sup> siècle

##### Un monde ouvert au commerce

- Principales routes commerciales espagnoles
- Principales routes commerciales portugaises
- Principaux ports de commerce
- SUCRE Produits importés

- Au XV<sup>e</sup> siècle, l'Amérique domine le monde.
- L'Europe et l'Asie font du commerce ensemble.
- L'Espagne et le Portugal possèdent les deux plus grands empires coloniaux au XVI<sup>e</sup> siècle.
- L'ensemble du monde est connu au XVI<sup>e</sup> siècle.
- L'Empire ottoman empêche les Européens de se rendre en Asie en passant par la Méditerranée.

## ANALYSER ET COMPRENDRE UN TEXTE

### Le développement des ports.

Les environs de la cité abondent en blé, vin, huile et fruits. On envoie aux Indes du blé et du vin ainsi que des vêtements qui ne se fabriquent pas encore là-bas, ce qui permet de gros bénéfices. C'est à Séville, à la Casa de Contratación<sup>1</sup> qu'arrivent tous les produits qui viennent de ces régions puisque les navires ne peuvent se décharger en aucun autre port. Il entre beaucoup d'or avec lequel on frappe chaque année de nombreuses monnaies, le cinquième étant prélevé par le roi.

D'après Andrea Navagero, ambassadeur de Venise, *Voyage en Espagne*, 1526

1. « Maison de commerce » qui contrôle par décision royale tout le commerce des Indes.

a. Présente le document.

.....

.....

.....

.....

.....

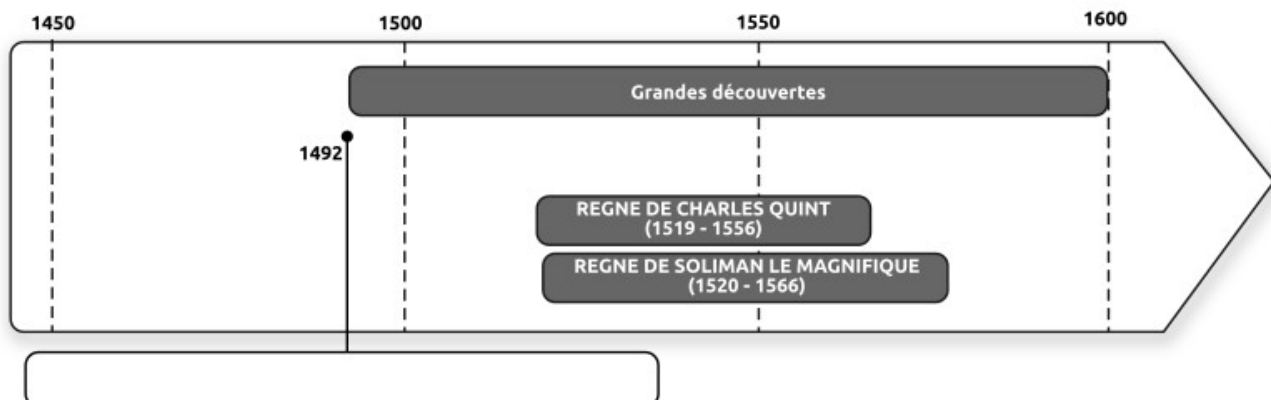
.....

.....

b. Quelles informations nous apporte le document ? Surligne les bonnes réponses parmi les propositions suivantes :

- Les villes espagnoles s'enrichissent grâce à la colonisation.
- Les colonies fournissent du blé et du vin.
- Les espagnols commercent avec l'Inde (en Asie).
- Les ports se développent grâce au commerce maritime.
- L'Europe reçoit de l'or provenant des colonies.

## SE REPÉRER DANS LE TEMPS



**① Sur la frise:**

a- Indiquez dans le cadre sous la frise l'évènement qui se produit en 1492

c- Repérez et nommez l'évènement "1494: traité de Tordesillas"

**② En vous servant de la frise, cochez les bonnes réponses.**

a- Les grandes découvertes ont duré environ:

1 siècle

un millénaire

500 ans

100 ans

b- Durant quel siècle, Charles Quint et Soliman le Magnifique règnent-ils?

le XIV<sup>e</sup> siècle

Le XVI<sup>e</sup> siècle

Le XV<sup>e</sup> siècle